


Jméno: \_\_\_\_\_

Učitel: \_\_\_\_\_

Nástroj: \_\_\_\_\_


Závěrečný test z hudební nauky- 5. ročník

1. Zapiš **noty** do **basového klíče**



B                      cis<sup>1</sup>                      ais                      Ges                      f                      As

2. Doplň **označení akordu** (název tóniny)



\_\_\_: T<sup>6</sup>      \_\_\_: T<sup>6</sup><sub>4</sub>      \_\_\_: T<sup>6</sup><sub>4</sub>      \_\_\_: T<sup>6</sup>      \_\_\_: T<sup>6</sup><sub>4</sub>      \_\_\_: T<sup>6</sup><sub>4</sub>      \_\_\_: T<sup>6</sup>



3.

Zapiš intervaly



č.4                      v.3                      m.3                      m.6                      č.5                      m.7                      č.4

4. Zapiš stupnici H dur a c moll harmonickou (nezapomeň na **půltóny, hlavní stupně, hlavní kvintakordy a dominantní septakord**)



5. Zakroužkuj správnou odpověď

1) Paralelní stupnice:

- a) G dur – e moll
- b) A dur – F dur
- c) C dur – c moll

3) Enharmonické stupnice:

- a) F dur – f moll
- b) Fis dur – Ges dur
- c) D dur – h moll

Jméno: \_\_\_\_\_

Učitel: \_\_\_\_\_

Nástroj: \_\_\_\_\_

2) Stejnojmenné stupnice

a) A dur - a moll

b) G dur – g moll

c) C dur – a moll