


Jméno: _____

Učitel: _____

Nástroj: _____


Závěrečný test z hudební nauky- 4. ročník

1. Zapiš **noty a basový klíč.**



cis G des Fis b As


2. Zapiš **kvintakord a jeho obraty**




G: T⁶ D: T⁶₄ A: T⁶ B: T⁵ E: T⁶₄ G: T⁶

3. Co je
to **enharmonická záměna?**

K daným tónům doplň druhý tak, aby byly oba **enharmonicky záměnné.**



4. Zapiš stupnici Es dur a h moll melodickou-**nezapomeň na posuvky k notám, tónický kvintakord, houslový klíč a vyznačení půltónů a hlavních stupňů**



5. Doplň názvy čistých, velkých a malých intervalů